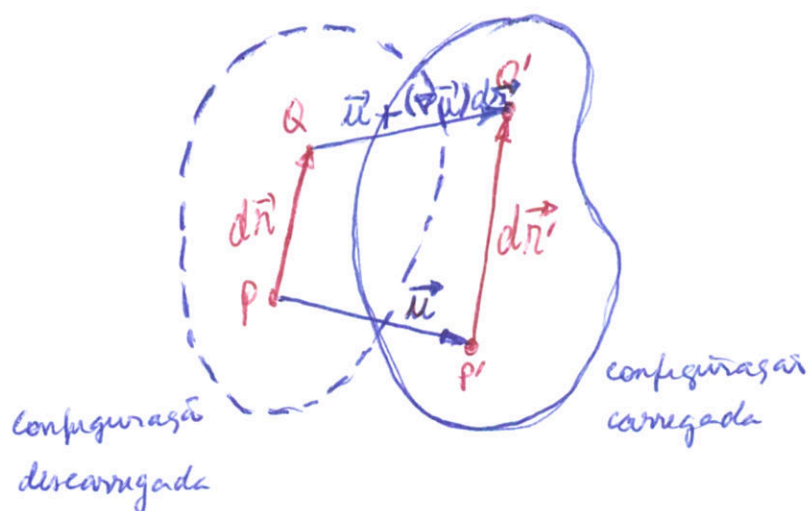


3.1 Campo de deslocamento de um sólido



Considere um sólido inicialmente descarregado. Não definiremos duas partículas que correspondem aos pontos P e Q . O segmento material PQ , denotado por $d\vec{r}$, é formado pelas partículas posicionadas sobre PQ , e será denominado segmento material infinitesimal. Seu comprimento na configuração descarregada será denotado por dr .

Quando o sólido é carregado e deslocado, todas as suas partículas se deslocam relativamente à sua posição na configuração descarregada. Na figura acima, por exemplo, a partícula em P se deslocou de \vec{u} , atingindo a posição P' . Pode-se, portanto, associar a cada ponto do sólido na configuração descarregada um vetor deslocamento como o da partícula em P . Tem-se assim um campo vetorial de deslocamento na região do espaço \mathbb{R}^3 onde o sólido se encontrava na sua configuração descarregada.

Retornando ao segmento material infinitesimal, observe que ele adquiriu um novo comprimento e orientação no espaço na

configuração carregada. Com o auxílio da figura, o vetor $d\vec{r}'$ que ³⁻² representa este segmento numa configuração carregada qualquer é:

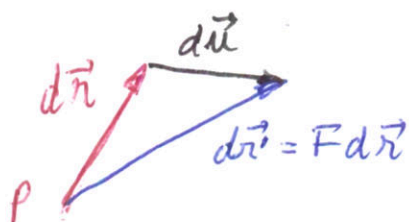
$$d\vec{r}' = d\vec{r} + \vec{u} + (\nabla\vec{u})d\vec{r} - \vec{u} = d\vec{r} + \nabla\vec{u}d\vec{r}$$

ou
$$d\vec{r}' = (\mathbf{I} + \nabla\vec{u})d\vec{r}$$

Denominaremos de tensor gradiente de deformação, F , ao tensor $\mathbf{I} + \nabla\vec{u}$, de modo que:

$$d\vec{r}' = F d\vec{r}$$

Portanto, o tensor gradiente de deformação F informa qual a orientação e comprimento do segmento material infinitesimal $d\vec{r}$ numa determinada configuração do sólido.



Observe que F está associado ao ponto P do espaço R^3 e, portanto, deve ser calculado aí, ou seja, no ponto de onde sai o vetor $d\vec{r}$.

3.2. O tensor de deformação infinitesimal

Tomando a diferença entre $d\vec{r}'$ e $d\vec{r}$, observa-se que:

$$d\vec{r}' - d\vec{r} = (\nabla\vec{u})d\vec{r} = d\vec{u}$$

ou seja, é a variação do deslocamento da partícula em P do ponto P para o Q .

Suponha que a magnitude da variação de deslocamento $d\vec{u}$ seja bem menor que o comprimento de $d\vec{r}$ (condição de deformação infinitesimal).

estes termos, a componente simétrica do gradiente de deslocamento $\nabla \vec{u}$, denomina-se tenzor de deformação infinitesimal, que será denotado por E :

$$E = \frac{1}{2} (\nabla \vec{u} + (\nabla \vec{u})^T)$$

Suas componentes cartesianas são:

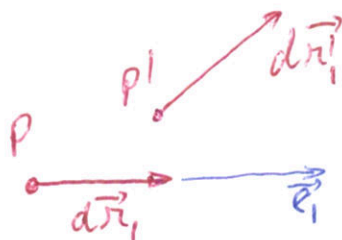
$$E_{ij} = \frac{1}{2} (u_{i,j} + u_{j,i})$$

Matricialmente, tem-se para o tensor de deformação infinitesimal

$$[E] = \begin{bmatrix} u_{1,1} & \frac{1}{2}(u_{1,2} + u_{2,1}) & \frac{1}{2}(u_{1,3} + u_{3,1}) \\ \frac{1}{2}(u_{1,2} + u_{2,1}) & u_{2,2} & \frac{1}{2}(u_{2,3} + u_{3,2}) \\ \frac{1}{2}(u_{1,3} + u_{3,1}) & \frac{1}{2}(u_{2,3} + u_{3,2}) & u_{3,3} \end{bmatrix}$$

3.3. Significado físico do tensor de deformação infinitesimal

Para identificar o significado físico da componente simétrica do gradiente de deslocamento, considere um segmento material infinitesimal que sai de P e se orienta na direção \vec{e}_i da base ortogonal $\{\vec{e}_i\}$:



Conforme a definição:

$$d\vec{r}_i = dr_i \vec{e}_i$$

onde dr_i é o comprimento desse segmento material infinitesimal.

Tomando o produto escalar de $d\vec{r}'_i$ por ele próprio:

$$\begin{aligned} d\vec{r}'_i \cdot d\vec{r}'_i &= (\mathbf{I} + \nabla \vec{u}) d\vec{r}_i \cdot (\mathbf{I} + \nabla \vec{u}) d\vec{r}_i \\ &= d\vec{r}_i \cdot (\mathbf{I} + \nabla \vec{u})^T (\mathbf{I} + \nabla \vec{u}) d\vec{r}_i \\ &= d\vec{r}_i \cdot (\mathbf{I} + (\nabla \vec{u})^T) (\mathbf{I} + \nabla \vec{u}) d\vec{r}_i \\ &= dr_i \vec{e}_i \cdot (\mathbf{I} + \nabla \vec{u} + (\nabla \vec{u})^T + (\nabla \vec{u})^T \nabla \vec{u}) dr_i \vec{e}_i \\ &= dr_i^2 \vec{e}_i \cdot (\mathbf{I} + 2\mathbf{E} + (\nabla \vec{u})^T \nabla \vec{u}) \vec{e}_i \end{aligned}$$

Considerando que u_i, j sejam muito pequenas, a parcela $(\nabla \vec{u})^T \nabla \vec{u}$ pode ser desprezada no termo entre parênteses na última linha da equação acima. Logo:

$$d\vec{r}'_i \cdot d\vec{r}'_i = dr_i^2 \vec{e}_i \cdot (\mathbf{I} + 2\mathbf{E}) \vec{e}_i = dr_i^2 (1 + 2E_{ii})$$

Como: $d\vec{r}'_i \cdot d\vec{r}'_i = (dr'_i)^2$, então:

$$(dr'_i)^2 = dr_i^2 (1 + 2E_{ii})$$

Reescrevendo esta última equação:

$$\frac{(dr'_i)^2 - dr_i^2}{dr_i^2} = 2E_{ii}$$

$$\text{mas: } \frac{(dr'_i)^2 - dr_i^2}{dr_i^2} = \frac{(dr'_i + dr_i)(dr'_i - dr_i)}{dr_i^2} \approx \frac{2dr_i(dr'_i - dr_i)}{dr_i^2} = \frac{2(dr'_i - dr_i)}{dr_i}$$

$$\text{Logo: } E_{ii} = \frac{dr'_i - dr_i}{dr_i}$$

Que seja, a componente E_{11} do tensor de deformação infinitesimal (componente simétrica do tensor gradiente de deformação para pequena deformação) é a diferença do comprimento do segmento material diferencial entre a configuração carregada e descarregada dividido pelo comprimento não deformado desse segmento.

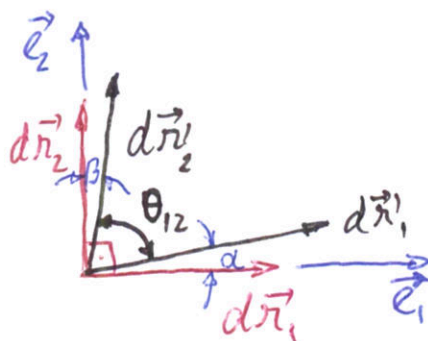
Que fique claro que esta interpretação física vale apenas para pequenas deformações ($u_{i,j} = \mathcal{O}(10^{-2})$).

Por procedimento análogo para os segmentos $d\vec{r}_2 = dr_2 \vec{e}_2$ e $d\vec{r}_3 = dr_3 \vec{e}_3$ saindo do ponto P, pode-se mostrar que:

$$E_{22} = \frac{dr_2' - dr_2}{dr_2}$$

$$E_{33} = \frac{dr_3' - dr_3}{dr_3}$$

Estes coeficientes são denominados de deformações normais. Para o significado físico das componentes fora da diagonal principal da matriz do tensor de deformação infinitesimal, considere agora dois elementos materiais infinitesimais dispostos nas direções \vec{e}_1 e \vec{e}_2 da base ortonormal $\{\vec{e}_i\}$ na configuração descarregada do sólido.



tem-se, portanto:

$$d\vec{r}'_1 = (\mathbf{I} + \nabla\vec{u})d\vec{r}_1$$

$$d\vec{r}'_2 = (\mathbf{I} + \nabla\vec{u})d\vec{r}_2$$

Tomando o produto escalar entre os dois elementos materiais infinitesimais na configuração carregada do sólido:

$$d\vec{r}'_1 \cdot d\vec{r}'_2 = (\mathbf{I} + \nabla\vec{u})d\vec{r}_1 \cdot (\mathbf{I} + \nabla\vec{u})d\vec{r}_2$$

$$= d\vec{r}_2 \cdot (\mathbf{I} + \nabla\vec{u})^T (\mathbf{I} + \nabla\vec{u}) d\vec{r}_1$$

Como visto anteriormente, para deformações infinitesimais $(\mathbf{I} + \nabla\vec{u})^T (\mathbf{I} + \nabla\vec{u}) \cong (\mathbf{I} + 2\mathbf{E})$. Portanto:

$$d\vec{r}'_1 \cdot d\vec{r}'_2 \cong d\vec{r}_2 \cdot (\mathbf{I} + 2\mathbf{E}) d\vec{r}_1$$

Lembrando que $d\vec{r}_1 = dr_1 \vec{e}_1$ e $d\vec{r}_2 = dr_2 \vec{e}_2$, então:

$$d\vec{r}'_1 \cdot d\vec{r}'_2 = dr_1 dr_2 \vec{e}_2 \cdot (\mathbf{I} + 2\mathbf{E}) \vec{e}_1$$

$$= dr_1 dr_2 (\delta_{21} + 2E_{21})$$

$$= 2E_{21} dr_1 dr_2$$

Por outro lado:

$$d\vec{r}'_1 \cdot d\vec{r}'_2 = dr'_1 dr'_2 \cos\theta_{12}$$

$$= (1 + E_{11}) dr_1 (1 + E_{22}) dr_2 \cos\theta_{12}$$

$$\cong dr_1 dr_2 \cos\theta_{12}$$

Igualando as duas últimas equações:

$$2E_{12} = \cos\theta_{12} - \sin(\frac{\pi}{2} - \theta_{12}) \cong \frac{\pi}{2} - \theta_{12} = \gamma'_{12}$$

ou

$$\gamma'_{12} = 2E_{12} = \mu_{1,2} + \mu_{2,1}$$

onde, fisicamente, $u_{2,1}$ e $u_{1,2}$ são aproximadamente os ângulos α e β indicados na figura acima, respectivamente.

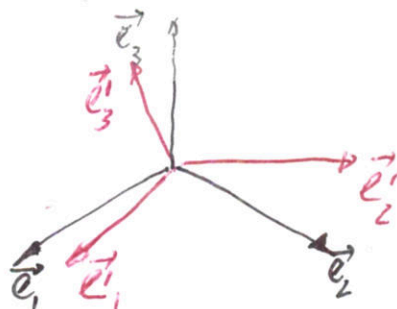
Portanto, o coeficiente E_{12} é a metade da variação do ângulo reto entre os dois segmentos materiais inicialmente orientados segundo as direções \vec{e}_1 e \vec{e}_2 na configuração descarregada. Valores positivos significam diminuição do ângulo reto e negativos o contrário.

Por procedimento análogo para os pares de segmentos $d\vec{r}_2 = dr_2 \vec{e}_2$ e $d\vec{r}_3 = dr_3 \vec{e}_3$ e $d\vec{r}_1 = dr_1 \vec{e}_1$ e $d\vec{r}_3 = dr_3 \vec{e}_3$ saindo de P , pode-se mostrar que $\delta_{23} = 2E_{23}$ e $\delta_{13} = 2E_{13}$, respectivamente.

Os ângulos δ_{ij} são denominados deformações de cisalhamento.

3.4 Transformação de deformação

Para conhecer como se deforma uma partícula em outras três direções ortogonais, recorre-se à transformação das componentes do tensor de deformação infinitesimal no novo sistema de coordenadas $\{\vec{e}'_i\}$. As novas componentes dão a interpretação física para o tensor E nessas novas direções, permitindo conhecer melhor o estado de deformação da partícula.



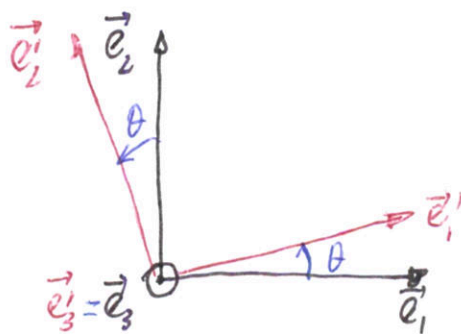
3-8
 Como visto anteriormente, as componentes de um tensor de segunda ordem se transformam de um sistema ortonormal para outro segundo a expressão:

$$\bar{E}_{ij}' = Q_{mi} Q_{nj} E_{mn}$$

onde Q_{ij} são as componentes da matriz de transformação de coordenadas entre os dois sistemas.

Exemplo: Dadas as componentes de um tensor de deformação infinitesimal num determinado ponto de um sólido no sistema ortonormal $\{\vec{e}_i\}$, determine as suas novas componentes no sistema $\{\vec{e}_i'\}$ obtido a partir do primeiro mediante a rotação de um ângulo θ no sentido anti-horário em torno do vetor \vec{e}_3 . Interprete o significado físico das componentes neste novo sistema.

$$[E]_{\vec{e}_i} = \begin{bmatrix} E_{11} & E_{12} & 0 \\ E_{12} & E_{22} & 0 \\ 0 & 0 & 0 \end{bmatrix}$$



Solução:

Matriz de transformação de coordenadas:

$$Q_{11} = \cos(\vec{e}_1, \vec{e}'_1) = \cos \theta$$

$$Q_{12} = \cos(\vec{e}_1, \vec{e}'_2) = -\sin \theta$$

$$Q_{13} = \cos(\vec{e}_1, \vec{e}'_3) = 0$$

$$Q_{21} = \cos(\vec{e}_2, \vec{e}'_1) = \sin \theta$$

$$Q_{22} = \cos(\vec{e}_2, \vec{e}'_2) = \cos \theta$$

$$Q_{23} = \cos(\vec{e}_2, \vec{e}'_3) = 0$$

$$Q_{31} = \cos(\vec{e}_3, \vec{e}'_1) = 0$$

$$Q_{32} = \cos(\vec{e}_3, \vec{e}'_2) = 0$$

$$Q_{33} = \cos(\vec{e}_3, \vec{e}'_3) = 1$$

$$[Q] = \begin{bmatrix} \cos \theta & -\sin \theta & 0 \\ \sin \theta & \cos \theta & 0 \\ 0 & 0 & 1 \end{bmatrix}$$

$$[E]_{\vec{e}'_i} = [Q]^T [E]_{\vec{e}_i} [Q]$$

$$[E]_{\vec{e}'_i} = \begin{bmatrix} \cos \theta & \sin \theta & 0 \\ -\sin \theta & \cos \theta & 0 \\ 0 & 0 & 1 \end{bmatrix} \begin{bmatrix} E_{11} & E_{12} & 0 \\ E_{12} & E_{22} & 0 \\ 0 & 0 & 1 \end{bmatrix} \begin{bmatrix} \cos \theta & -\sin \theta & 0 \\ \sin \theta & \cos \theta & 0 \\ 0 & 0 & 1 \end{bmatrix}$$

$$E'_{11} = \frac{E_{11} + E_{22}}{2} + \frac{E_{11} - E_{22}}{2} \cos 2\theta + E_{12} \sin 2\theta$$

$$E'_{12} = E'_{21} = \frac{E_{22} - E_{11}}{2} \sin 2\theta + E_{12} \cos 2\theta$$

$$E'_{22} = \frac{E_{11} + E_{22}}{2} - \frac{E_{11} - E_{22}}{2} \cos 2\theta - E_{12} \sin 2\theta$$

$$E'_{13} = E'_{23} = E'_{33} = 0$$

Interpretação física das componentes:

E'_{11} , E'_{22} e E'_{33} representam a variação no comprimento pelo comprimento não deformado de segmentos materiais infinitesimais segundo as direções \vec{e}'_1 , \vec{e}'_2 e \vec{e}'_3 , respectivamente. Neste caso não há deformação em \vec{e}'_3 .

E'_{12} é a metade da variação do ângulo reto entre os segmentos orientados segundo \vec{e}'_1 e \vec{e}'_2 . Como $E'_{13} = E'_{23} = 0$, não há variação do ângulo reto entre os segmentos materiais infinitesimais orientados segundo as direções \vec{e}'_1 e \vec{e}'_3 e \vec{e}'_2 e \vec{e}'_3 .

3.5. Deformações principais

As deformações principais e respectivas direções correspondem aos auto-valores e auto-vetores do tensor deformação infinitesimal. Como visto, as deformações principais correspondem às raízes da equação característica:

$$|[E] - E[I]| = E^3 - I_1 E^2 + I_2 E - I_3 = 0$$

com os invariantes:

$$I_1 = \text{tr } E$$

$$I_2 = \begin{vmatrix} E_{11} & E_{12} \\ E_{12} & E_{22} \end{vmatrix} + \begin{vmatrix} E_{11} & E_{13} \\ E_{13} & E_{33} \end{vmatrix} + \begin{vmatrix} E_{22} & E_{23} \\ E_{23} & E_{33} \end{vmatrix}$$

$$I_3 = \begin{vmatrix} E_{11} & E_{12} & E_{13} \\ E_{12} & E_{22} & E_{23} \\ E_{13} & E_{23} & E_{33} \end{vmatrix}$$

O primeiro invariante, I_1 , é a dilatação volumétrica. Seu significado físico é a variação volumétrica da partícula do sólido.

A matriz do tensor de deformação infinitesimal E no sistema de coordenadas correspondente às suas direções principais \vec{e}_i :

$$[E]_{\vec{n}_i} = \begin{bmatrix} E_1 & 0 & 0 \\ 0 & E_2 & 0 \\ 0 & 0 & E_3 \end{bmatrix}$$

onde E_1, E_2 e E_3 são as deformações principais de E .

Tomando $E_1 \geq E_2 \geq E_3$, tem-se para qualquer direção \vec{e}_i que:

$$E_1 \geq E'_{ii} \geq E_3 \quad (\text{desconsiderar notação indicial})$$

Observe que segmentos materiais infinitesimais ou em-

dados segundo as direções principais de deformação da partícula permanecem ortogonais entre si. A justificativa disto está nos coeficientes fora da diagonal da matriz $[E]_{\vec{n}_i}$ serem nulos.

Exemplo: O estado de deformação uniaxial é aquele cujo o tensor de deformação infinitesimal no sistema de coordenadas principais é dado por:

$$[E]_{\vec{n}_i} = \begin{bmatrix} E_1 & 0 & 0 \\ 0 & 0 & 0 \\ 0 & 0 & 0 \end{bmatrix}$$

Interprete fisicamente esse estado de deformação.

Solução:

Primeiramente, os auto-valores do tensor de deformação uniaxial são:

$$E_1 \text{ e } E_2 = E_3 = 0$$

Portanto, qualquer vetor ortogonal ao auto-vetor \vec{n}_1 associado a E_1 é auto-vetor de $E_2 = E_3 = 0$.

Tomando uma base ortormal $\{\vec{e}_i\}$ de modo que $\vec{e}_1 = \vec{n}_1$ e \vec{e}_2 e \vec{e}_3 dois vetores unitários ortogonais entre si e ortogonais a \vec{n}_1 , tem-se nessa base:

$$E_{11} = \vec{e}_1 \cdot E \vec{e}_1 = \vec{e}_1 \cdot E_1 \vec{e}_1 = E_1$$

$$E_{12} = E_{21} = \vec{e}_1 \cdot E \vec{e}_2 = 0$$

$$E_{13} = E_{31} = \vec{e}_1 \cdot E \vec{e}_3 = 0$$

$$E_{22} = \vec{e}_2 \cdot E \vec{e}_2 = 0$$

$$E_{23} = \vec{e}_2 \cdot E \vec{e}_3 = 0$$

$$E_{33} = \vec{e}_3 \cdot E \vec{e}_3 = 0$$

Logo, qualquer segmento material infinitesimal ortogonal a \vec{n}_1 não se deforma. E quaisquer dois segmentos materiais infinitesimais ortogonais entre si e a \vec{n}_1 permanecem ortogonais entre si com a deformação uniaxial.

3.6 Tensores de deformação infinitesimal esférico e desviador 3-13

O tensor de deformação infinitesimal pode ser decomposto em duas partes denominadas esférica e desviadora

O tensor de deformação infinitesimal esférico é definido como:

$$\tilde{\mathbf{E}} = \frac{1}{3}(\text{tr } \mathbf{E}) \mathbf{I}$$

ou

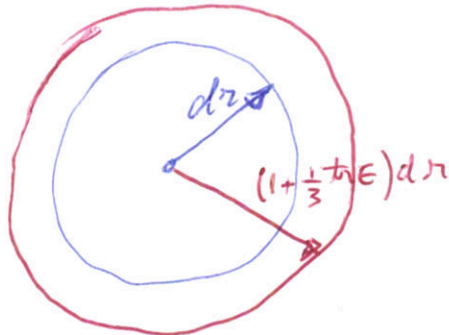
$$\tilde{E}_{ij} = \frac{1}{3} E_{kk} \delta_{ij} = \frac{1}{3} I_1 \delta_{ij}$$

Como para este tensor qualquer direção é direção principal do único auto-valor $\frac{1}{3} \text{tr } \mathbf{E}$, tomando-se um segmento material infinitesimal qualquer $d\vec{r}$ tem-se:

$$\tilde{\mathbf{E}} d\vec{r} = \frac{1}{3}(\text{tr } \mathbf{E}) d\vec{r}$$

$$d\vec{r} \circ \tilde{\mathbf{E}} d\vec{r} = \frac{1}{3}(\text{tr } \mathbf{E}) d\vec{r}^2$$

ou seja, o que na configuração descarregada é uma esfera, na configuração carregada continua uma esfera.



O tensor de deformação infinitesimal derivado é definido


como:

$$\hat{E} = E - \tilde{E} = E - \frac{1}{3}(\text{tr}E)I$$

ou

$$\hat{E}_{ij} = E_{ij} - \frac{1}{3}E_{kk}S_{ij}$$

Como este tensor tem traço nulo, ou seja, o seu primeiro invariante é nulo, ele preserva o volume. No entanto, ele representa a variação de forma de um elemento material volumétrico. Por exemplo, uma esfera material na configuração descomprimida torna-se uma elipse de igual volume na configuração carregada.



Os tensores E e \hat{E} têm as mesmas direções principais

Para justificar isto, considere o auto-valor e respectivo auto-vetor de E , λ e \vec{n} , de modo que:

$$E\vec{n} = \lambda\vec{n}$$

Logo:

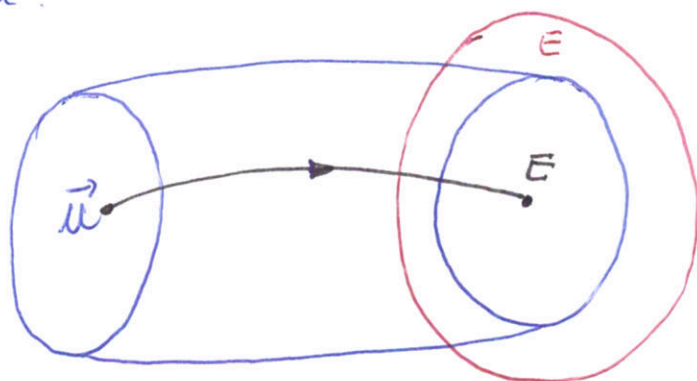
$$\begin{aligned}\hat{E}\vec{n} &= (E - \tilde{E})\vec{n} = E\vec{n} - \tilde{E}\vec{n} = E\vec{n} - \frac{1}{3}(\text{tr}E)I\vec{n} \\ &= \lambda\vec{n} - \frac{1}{3}(\text{tr}E)\vec{n}\end{aligned}$$

$$\text{ou } \hat{E}\vec{n} = \left(\lambda - \frac{1}{3}\text{tr}E\right)\vec{n}$$

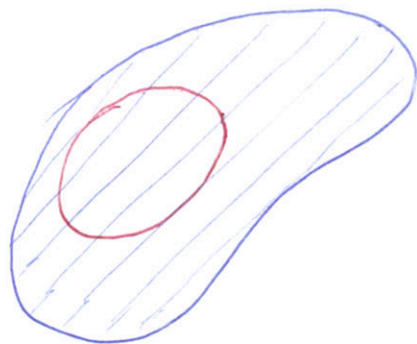
Isto é, \vec{n} também é auto-vetor do auto-valor $\lambda - \frac{1}{3}\text{tr}E$ do tensor \hat{E} .

3.7. Condições de compatibilidade

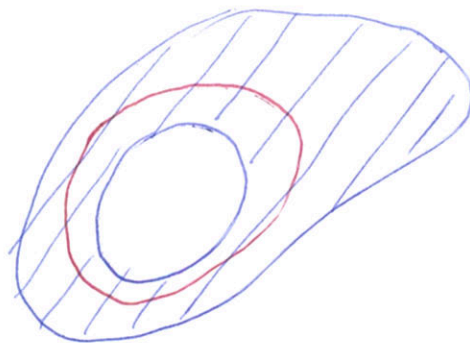
A todo campo de deslocamento corresponde um campo de tensor de deformação infinitesimal. Porém a recíproca é verdadeira sob determinadas condições denominadas condições de compatibilidade. O diagrama a seguir ilustra o problema.



Para que um campo de tensor de deformação infinitesimal E seja compatível com um campo de deslocamento \vec{u} primitivo se exige que o sólido seja simplesmente conexo. Um sólido é simplesmente conexo se qualquer superfície fechada dentro do sólido pode ser colapsada num ponto sem cruzar a fronteira do sólido.



simplesmente
conexo



multiplamente conexo.

Em segundo lugar se exige que as componentes do tensor de deformação infinitesimal verifiquem as seguintes relações:

$$E_{ij,kl} + E_{kl,ij} = E_{ik,jl} + E_{jl,ik}$$

Embora sejam 81 equações, muitas delas identidades do tipo $A=A$ ou meras repetições, apenas 6 equações são significativas:

$$E_{11,22} + E_{22,11} = 2 E_{12,12}$$

$$E_{22,33} + E_{33,22} = 2 E_{23,23}$$

$$E_{11,33} + E_{33,11} = 2 E_{13,13}$$

$$E_{11,23} = E_{12,13} + E_{13,12} - E_{23,11}$$

$$E_{22,13} = E_{12,23} + E_{23,12} - E_{13,22}$$

$$E_{33,12} = E_{13,23} + E_{23,13} - E_{12,33}$$

Exemplo. Verifique se o campo tensorial

$$[E] = A \begin{bmatrix} \lambda_3 & 0 & 0 \\ 0 & \lambda_3 & 0 \\ 0 & 0 & \lambda_3 \end{bmatrix}$$

é compatível com um campo de deslocamento de um sólido simplesmente conexo. Caso afirmativo, determine um campo de deslocamento.

Solução

$$\begin{aligned} E_{12,12} &= E_{23,23} = E_{13,13} = E_{12,13} = E_{13,12} = E_{23,11} = E_{12,23} = E_{23,12} = E_{13,22} = E_{13,23} = \\ &= E_{23,13} = E_{12,33} = E_{11,22} = E_{22,11} = E_{33,22} = E_{33,11} = E_{11,23} = E_{22,13} = E_{33,12} = E_{22,33} = E_{11,33} = \\ &= 0 \end{aligned}$$

3-1

Portanto, todos os termos das equações de compatibilidade são nulos. Logo, todas elas se verificam. O campo tensorial dado é compatível com um campo de deslocamento num sólido simplesmente conexo.

Determinação do campo de deslocamento:

$$u_{1,1} = \Delta x_3 \Rightarrow u_1 = \Delta x_1 x_3 + f_1(x_2, x_3) \quad (1)$$

$$u_{2,2} = \Delta x_3 \Rightarrow u_2 = \Delta x_2 x_3 + f_2(x_1, x_3) \quad (2)$$

$$u_{3,3} = \Delta x_3 \Rightarrow u_3 = \frac{A}{2} x_3^2 + f_3(x_1, x_2) \quad (3)$$

$$u_{1,2} + u_{2,1} = 0 \Rightarrow f_{1,2} = -f_{2,1} \quad \text{e ambas dependem só de } x_3$$

$$\Rightarrow f_1 = -x_2 f_{2,1} + g_1(x_3) \quad \text{e} \quad f_2 = -x_1 f_{1,2} + g_2(x_3)$$

$$u_{1,3} + u_{3,1} = 0 \Rightarrow \Delta x_1 + f_{1,3} + f_{3,1} = 0 \quad (4)$$

Substituindo f_1 nesta última:

$$\Delta x_1 + x_2 f_{2,13} + g_{1,3} + f_{3,1} = 0$$

$$\text{ou} \quad \Delta x_1 + f_{3,1} - \frac{\partial}{\partial x_3} (x_2 f_{2,1} + g_1) = 0$$

$$\underbrace{\Delta x_1 + f_{3,1}}_{\text{depende de } (x_1, x_2)} \quad \underbrace{- \frac{\partial}{\partial x_3} (x_2 f_{2,1} + g_1)}_{\text{depende de } (x_2, x_3)}$$

só pode depender de

x_2 , do contrário não verifica a igualdade

Para que $\frac{\partial}{\partial x_3} (x_2 f_{2,1} + g_1)$ dependa só de x_2 :

$$f_{2,1} = B x_3$$

$$g_1 = C$$

Assim $\frac{\partial}{\partial x_3} (B x_2 x_3 + C) = B x_2$

e $\Delta x_1 + f_{3,1} = B x_2$

ou $f_{3,1} = B x_2 - \Delta x_1 \Rightarrow f_3 = B x_1 x_2 - \frac{A}{2} x_1^2 + h_1(x_2) \quad (5)$

$$u_{2,3} + u_{3,2} = 0 \rightarrow Ax_2 + f_{2,3} + f_{3,2} = 0 \quad (6)$$

por meio de um procedimento análogo desenvolvido com a equação (4) chega-se a:

$$f_3 = Ex_1x_2 - \frac{A}{2}x_2^2 + h_2(x_1) \quad (7)$$

com:

$$f_{1,2} = Ex_3$$

$$g_2 = D$$

comparando (5) e (7) conclui-se que $B=0$, $h_1(x_2) = -\frac{A}{2}x_2^2$,

$h_2(x_1) = -\frac{A}{2}x_1^2$, e portanto:

$$f_3(x_1, x_2) = -\frac{A}{2}x_1^2 + Bx_1x_2 - \frac{A}{2}x_2^2$$

$$f_1(x_2, x_3) = -Bx_2x_3 + C$$

$$f_2(x_1, x_3) = -Bx_1x_3 + D$$

Finalmente:

$$u_1 = Ax_1x_3 - Bx_2x_3 + C$$

$$u_2 = Ax_2x_3 - Bx_1x_3 + D$$

$$u_3 = \frac{A}{2}x_3^2 - \frac{A}{2}x_1^2 + Bx_1x_2 - \frac{A}{2}x_2^2$$